



Determina se ogni angolo mostrato è "minore", "maggiore" o "uguale" a 90°.

Es)



1)



2)



Risposte

Es. minore

1. _____

2. _____

3. _____

4. _____

5. _____

6. _____

7. _____

8. _____

9. _____

10. _____

11. _____

12. _____

13. _____

14. _____

15. _____

16. _____

17. _____

18. _____

19. _____

20. _____

3)



4)



5)



6)



7)



8)



9)



10)



11)



12)



13)



14)



15)



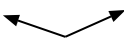
16)



17)



18)



19)



20)





Determina se ogni angolo mostrato è "minore", "maggiore" o "uguale" a 90° .

Es)



1)



2)



Risposte

Es. minore

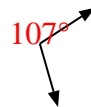
3)



4)



5)



1. uguale

2. minore

6)



7)



8)



3. uguale

4. minore

5. maggiore

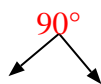
6. minore

7. uguale

9)



10)



11)



8. minore

9. minore

10. uguale

11. uguale

12)



13)



14)

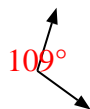


12. minore

13. maggiore

14. maggiore

15)



16)



17)



15. maggiore

16. uguale

17. maggiore

18)



19)



20)



18. maggiore

19. maggiore

20. uguale