



Determina se ogni angolo mostrato è "minore", "maggiore" o "uguale" a 90° .

Es)



1)



2)



Risposte

Es. minore

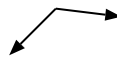
3)



4)



5)



6)



7)



8)



9)



10)



11)



12)



13)



14)



15)



16)



17)



18)



19)



20)



- 1. _____
- 2. _____
- 3. _____
- 4. _____
- 5. _____
- 6. _____
- 7. _____
- 8. _____
- 9. _____
- 10. _____
- 11. _____
- 12. _____
- 13. _____
- 14. _____
- 15. _____
- 16. _____
- 17. _____
- 18. _____
- 19. _____
- 20. _____



Determina se ogni angolo mostrato è "minore", "maggiore" o "uguale" a 90° .

Es)



1)



2)



3)



4)



5)



6)



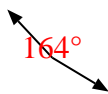
7)



8)



9)



10)



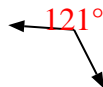
11)



12)



13)



14)



15)



16)



17)



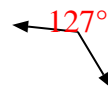
18)



19)



20)



Risposte

Es. minore

1. minore

2. uguale

3. minore

4. uguale

5. maggiore

6. minore

7. uguale

8. uguale

9. maggiore

10. uguale

11. minore

12. maggiore

13. maggiore

14. maggiore

15. minore

16. minore

17. maggiore

18. uguale

19. uguale

20. maggiore