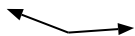




Determina se ogni angolo mostrato è "minore", "maggiore" o "uguale" a 90°.

Es)



1)



2)



Risposte

Es. maggiore

1. _____

2. _____

3. _____

4. _____

5. _____

6. _____

7. _____

8. _____

9. _____

10. _____

11. _____

12. _____

13. _____

14. _____

15. _____

16. _____

17. _____

18. _____

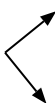
19. _____

20. _____

3)



4)



5)



6)



7)



8)



9)



10)



11)



12)



13)



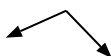
14)



15)



16)



17)



18)



19)



20)





Determina se ogni angolo mostrato è "minore", "maggiore" o "uguale" a 90° .

Es)



1)



2)



Risposte

Es. maggiore

1. maggiore

2. uguale

3. maggiore

4. uguale

5. uguale

6. uguale

7. minore

8. minore

9. minore

10. maggiore

11. uguale

12. minore

13. uguale

14. minore

15. uguale

16. maggiore

17. maggiore

18. minore

19. minore

20. uguale

3)



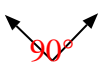
4)



5)



6)



7)



8)



9)



10)



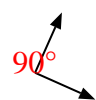
11)



12)



13)



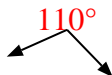
14)



15)



16)



17)



18)



19)



20)

