



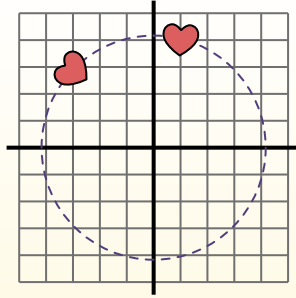
**Ruota ogni forma. Rispondi con le nuove coordinate**

$\theta$  = Angolo di rotazione

**Formula di rotazione**

$$x1 = x \times \cos(\theta) - y \times \sin(\theta)$$

$$y1 = x \times \sin(\theta) + y \times \cos(\theta)$$



Nell'esempio a destra la figura ha coordinate (1;4).

Trova le nuove coordinate se ruotassimo la figura di 60°.

$$1. \begin{aligned} x1 &= 1 \times \cos(60) - 4 \times \sin(60) \\ y1 &= 1 \times \sin(60) + 4 \times \cos(60) \end{aligned}$$

$$2. \begin{aligned} x1 &= 1 \times 0,5 - 4 \times 0,87 \\ y1 &= 1 \times 0,87 + 4 \times 0,5 \end{aligned}$$

$$3. \begin{aligned} x1 &= 0,5 - 3,48 \\ y1 &= 0,87 + 2 \end{aligned}$$

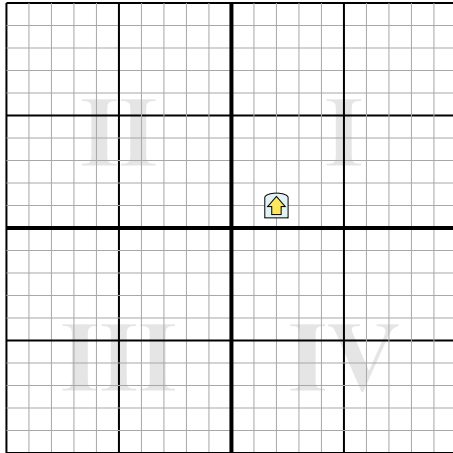
$$4. \begin{aligned} x1 &= -2,98 \\ y1 &= 2,87 \end{aligned}$$

5. Guardando la figura, vediamo che ruotandola di 60° si trova a (-2,98;2,87).

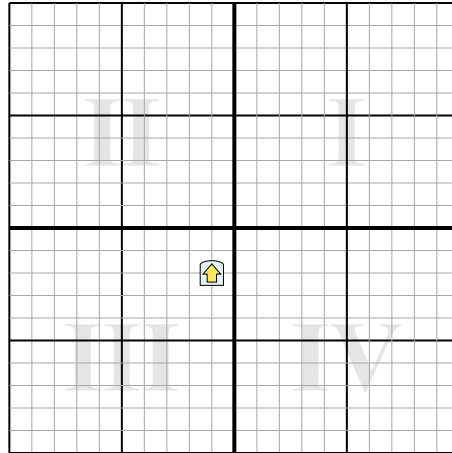
**Risposte**

1. \_\_\_\_\_
2. \_\_\_\_\_
3. \_\_\_\_\_
4. \_\_\_\_\_

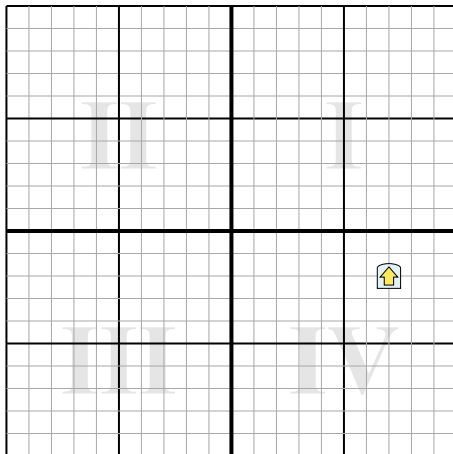
1) Gire la forma -185° alrededor del punto (0;0).



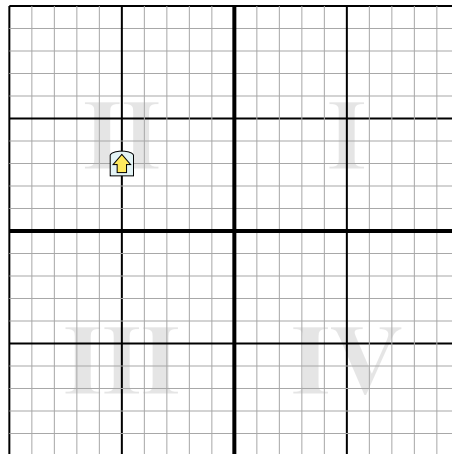
2) Gire la forma -226° alrededor del punto (0;0).



3) Gire la forma -84° alrededor del punto (0;0).



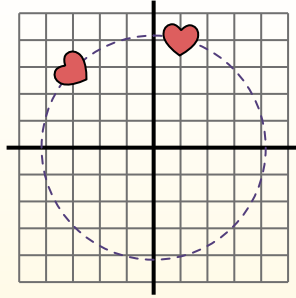
4) Gire la forma 292° alrededor del punto (0;0).



**Ruota ogni forma. Rispondi con le nuove coordinate** $\theta$  = Angolo di rotazione**Formula di rotazione**

$$x1 = x \times \cos(\theta) - y \times \sin(\theta)$$

$$y1 = x \times \sin(\theta) + y \times \cos(\theta)$$



Nell'esempio a destra la figura ha coordinate (1;4).

Trova le nuove coordinate se ruotassimo la figura di  $60^\circ$ .

$$1. \begin{aligned} x1 &= 1 \times \cos(60) - 4 \times \sin(60) \\ y1 &= 1 \times \sin(60) + 4 \times \cos(60) \end{aligned}$$

$$2. \begin{aligned} x1 &= 1 \times 0,5 - 4 \times 0,87 \\ y1 &= 1 \times 0,87 + 4 \times 0,5 \end{aligned}$$

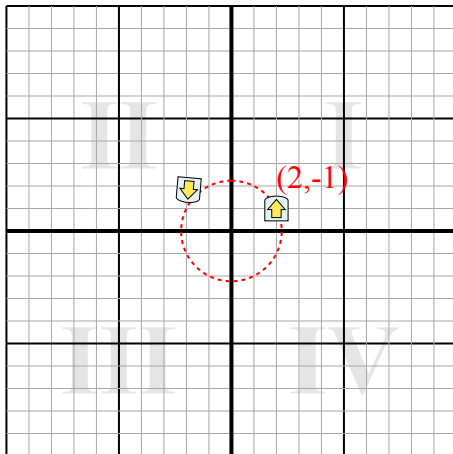
$$3. \begin{aligned} x1 &= 0,5 - 3,48 \\ y1 &= 0,87 + 2 \end{aligned}$$

$$4. \begin{aligned} x1 &= -2,98 \\ y1 &= 2,87 \end{aligned}$$

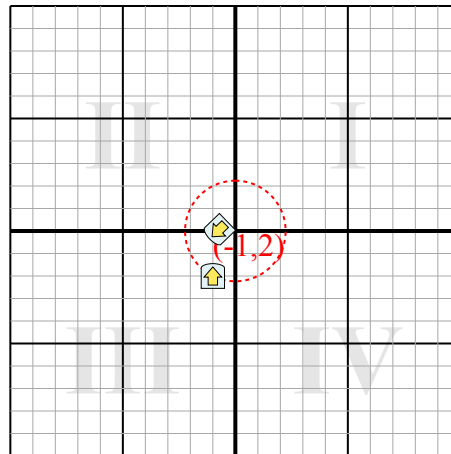
5. Guardando la figura, vediamo che ruotandola di  $60^\circ$  si trova a (-2,98;2,87).

**Risposte**1. **(-1,9,1,8)**2. **(-0,7,0)**3. **(2,7,6,2)**4. **(-4,7,-2,8)**

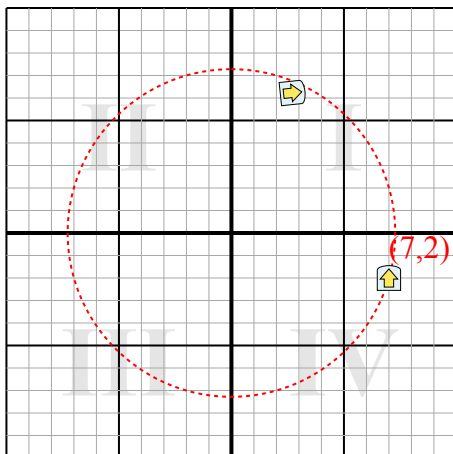
1) Gire la forma  $-185^\circ$  alrededor del punto (0;0).



2) Gire la forma  $-226^\circ$  alrededor del punto (0;0).



3) Gire la forma  $-84^\circ$  alrededor del punto (0;0).



4) Gire la forma  $292^\circ$  alrededor del punto (0;0).

